

Neved: Felkészítő tanárod neve:

Iskolád neve : Elért pontszámod: / 80

1/A. Állítsd időrendi sorrendbe a filmplakátok betűjeleit! Első legyen a legkorábbi történelmi időszakot jelző plakát betűjele!

a2
.../2



Időrendi sorrend (betűsor):

1/B. Melyik filmplakát által jelzett történelmi időszakhoz köthetőek az alábbi történelmi ismeretek? Egy-egy filmplakát betűjelével válaszolj!

a1
b1
c1
d1
e1
f1
.../6

- a) A Római Birodalom fénykora, a Colosseum építése.
- b) A pozsonyi győztes csata.
- c) A várnai vereség, I. Ulászló halála.
- d) Jeruzsálem elfoglalása és száz éven át történő megtartása.
- e) A déli harangszó elrendelése.
- f) Konstantinápoly egyenrangú Rómával. A catalaunumi csata.

2. Melyik városba várják az utazni vágyókat? Írd a leírások után a megfelelő város nevét és képének számát! Amelyik leíráshoz nincs kép, oda csak városnevet írd!

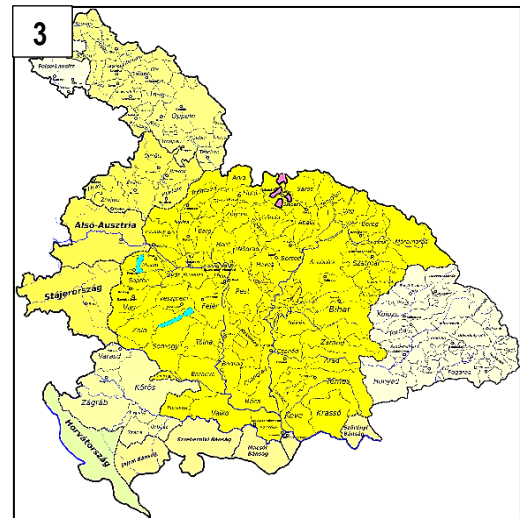
a1
b1
c1
d1
e1
.../5

- a) A tárlatvezető segítségével megtekintjük az apátság látogatható részeit: a templomot, az altemplomot, a kerengőt és a könyvtárt.
- b) Az iszlám legszentebb városa, Mohamed próféta és a muszlim vallás szülőhelye, ahova egynapos látogatást tervezünk.
- c) Már a római korban is lakott település volt Scarbantia. A középkorban a többségében németek által lakott város hamar királyi városi rangot kapott. Napjainkban fő látványossága a tűztorony és a megmaradt középkori városmag.
- d) Királyi palotájáról híres város, a Dunakanyar fővárosának is nevezik. Kiállítások, koncertek, fesztiválok várják az érdeklődő látogatókat. A város legnagyobb rendezvénye a középkort idézi fel.
- e) Gyönyörködhetünk a Szt. Péter tér lenyűgöző épületegyüttesében, a leghíresebb pápák síremlékeiben is. A bazilika megtekintését követően a Pantheon tökéletes épületét nézhetjük meg.



3/A. Egészítsd ki Ratkai Tibor *Rímbe szedett történelem* című versének részleteit a zárójeles utasításoknak megfelelően úgy, hogy a rímelés szabályainak is megfeleljenek!

Kunok felett győző, törvényhozó (király keresztnév).....,
 Lopásra hajlóknak akasztás a zárászó.
 Továbbra is élő, kedvelt a pogányság,
 Akit rajta kapnak, egy ökör a váltság.
 Tatárok dúlják fel évszázadok művét,
 Mohón lakmározzák szőlejének fürtjét.
 (király keresztnév) király buzgó, kivonultuk után,
 Kővárakat épít, mint például (városnév)
 (királynév)..... pénzt ver firenzei módra,
 A csehet és lengyelt barátjának mondja.
 Túlmegy minden ponton (királynév)..... hatalma,
 Lengyel trónt örököl, olasz nyakán kardja.
 Kolozsvár szülötte, igazságos (király keresztnév).....,
 A magyarra nézve hihetetlen áldás.
 Páratlanul művelt, azt mondja a fáma,
 Jeles bizonyíték (könyvtámév) könyvtára.
 Adóemelésre szólít a parancsa,
 Megszorításoknak leszen fogatja.
 Folyton erősíti a végvári rendszert,
 Zsoldos sereget tart, hisz a kincstár megtelt.
 Kezei közé jut (városnév) büszke vára,
 Török ambíciók rohamait állja.
 Nagyhatalommá lesz becses királysága,
 Messzi vidékekről járnak csodájára.

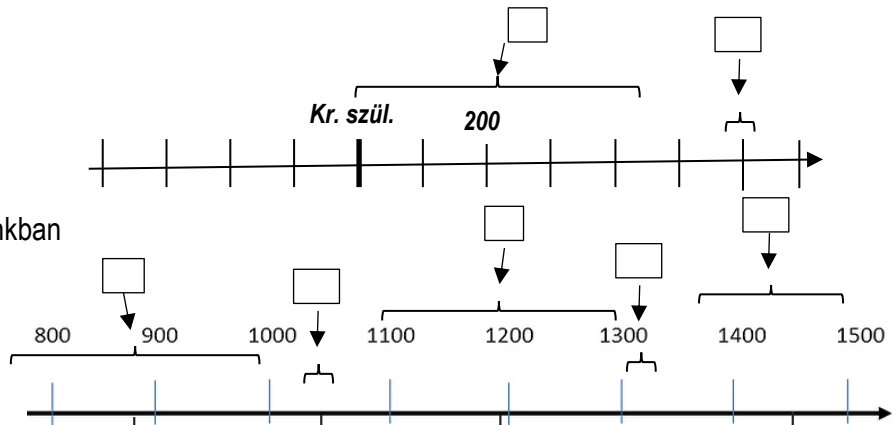


3/B. Írd a megfelelő térkép számát az alábbi állítások utáni négyzetbe! Egyik állítás négyzete üresen maradjon!

- A) A versrészlet elejéhez kapcsolható.
- B) A versrészlet 11-12. sorához kapcsolható.
- C) A versrészlet utolsó részeihez kapcsolható.
- D) Nem kapcsolható a versrészlet egyik részéhez sem.

4. Az alábbi fogalmak a történelem egy-egy meghatározott időszakához kapcsolódnak leginkább. Írd be a fogalmak betűjelét az időszalag megfelelő részébe! Egy betű csak egy helyre kerülhet!

- a) pogánylázadások hazánkban
- b) provinciák és helytartók
- c) szpáhik és janicsárok
- d) tartományurak vagy kiskirályok hazánkban
- e) román és gótikus stílus
- f) legfiatalabb világvallás hódítása



a1
b1
c1
d1
e1
f1
g1
h1
.../8

a1
b1
c1
.../3

a1
b1
c1
d1
e1
f1
.../6

5. Egy-egy történelmi esemény, élethelyzet megítélése attól függ, kinek a szemszögéből vizsgáljuk. Nevezd meg, kinek a szemszögéből készülhettek az alábbi magyar történelemmel kapcsolatos képzelt szövegek!

a) Szép ez a ló, de azt nem tudtam, hogy a cserébe adott víz és a föld az egész területet megszerzését jelenti nekik. Most főhet a fejem, hogy mászom ki ebből. Lehet, hogy harc lesz a vége.

b) Hát meglehetősen műveletlenek voltak. Kézzelel-lábbal ettek a földön ülve. Az sem tetszett, hogy megpofoztak. De legalább engem is megkínáltak. Rég nem laktam ilyen jól.

c) Könnyű neki német támogatással, de nem ijedünk meg a lovagoktól. Ősi törvény szerint engem illet a hatalom.

d) Meg kell értenie, hogy fiam született, így nem lehet tovább ő az örökösöm. Visszaküldöm Magyarországra. Felkészült az uralkodásra, segíteni fogom trónra jutni, de itt már nem terem neki tovább babér.

e) Hamis vádakkal illetnek a magyar urak. Remélem királyunk nem ül fel az álhíreknek. Itt vagyunk, vállaljuk beengedésünkért cserébe azt, amit megígértünk. Hazugság az, hogy a tatárokkal szövetkeztünk.

f) Nekünk is jogunk van saját hitünk szerint élni. Miért kellene parancsszóra kereszténynek lennünk? Ha nem kapunk engedményeket, harcolni fogunk érte. Leromboljuk a templomokat is, ha kell.

a1
b1
c1
d1
e1
f1
.../6

6. Ha akkor lett volna névnap, mikor ünnepelte volna a leírásban rejlő személy a névnapját? Írj a leírások mellé hónap, nap dátumot a naptárrészletekből!

a) a kerlési csatában részt vevő magyar király:

b) Dalmáciát elfoglaló művelt magyar király:

c) magyar hadvezér a vesztes augsburgi csatában:.....

d) kiskorúsága idejére kormányzót választottak:

e) az első német-római császár a X. században:

f) tanácsadója Gellért püspök volt:

24 Október <small>imomi CSALÁDI ONLINE MAGAZIN</small>						
Kedd	Szerda	Csütörtök	Péntek	Szombat	Vasárnap	
1 Malvin	2 Petra	3 Helga	4 Ferenc	5 Aurél, Galina	6 Brúnó, Renáta	
8 Koppány	9 Dénes	10 Gedeon	11 Brigitta	12 Miksa	13 Kálmán, Ede	
15 Teréz, Terézia	16 Gál, Aurélia	17 Hedvig, Hédi	18 Lukács	19 Nándor	20 Vendel	
22 Előd, Korinna	23 Nemzeti ünnep	24 Salamon	25 Blanka, Bianka	26 Dömötör, Amanda	27 Szabina, Szabrina	

a1
b1
c1
d1
e1
f1
.../6

24 Július <small>imomi CSALÁDI ONLINE MAGAZIN</small>						
Kedd	Szerda	Csütörtök	Péntek	Szombat	Vasárnap	
2 Ottó	3 Kornél, Soma	4 Ulrik, Babett	5 Emese, Sarolta	6 Csaba	7 Appolónia, Apolka	
9 Lukrécia, Marina	10 Amália, Alma	11 Nóra, Lili	12 Izabella, Dalma	13 Jenő	14 Őrs, Stella	
16 Valter	17 Endre, Elek	18 Frigyes, Kamill	19 Emília, Esztella	20 Illés	21 Dániel, Daniella	

24 Augusztus <small>imomi CSALÁDI ONLINE MAGAZIN</small>						
Hétfő	Kedd	Szerda	Csütörtök	Péntek	Szombat	
			1 Boglárka	2 Lehel	3 Hermína, Kira	
5 Krisztina	6 Berta, Bettina	7 Ibolya, Afrodité	8 László, Eszmeralda	9 Emőd	10 Lőrinc	
12 Ára, Leticia	13 Ipoly	14 Marcell	15 Mária	16 Ábrahám, Rókus	17 Jácint, Arika	
19 Huba	20 Államal. ü., István	21 Sámuel, Hajna	22 Menyhért, Mirjam	23 Bence, Szidónia	24 Bertalan, Jonatán	

7. Számoljunk! Számot adj meg válaszként! (pl. az 1222-23- hoz hasonló évszám a számolásakor 2 év időtartamnak számítson!)

a) Az Árpád-ház kihalásának évszámából kivonjuk az iszlám vallás kialakulásának kezdeti évét =

b) Szent István királyságának éveit megszorozzuk a tatárjárás időtartamával évben kifejezve =

c) A nikápolyi csata évszámához adjuk hozzá a Nyugatrómai Birodalom bukásának évét =

a1
b1
c1
.../3

8. Csoportosítsd az összetartozó adatokat! Írd a betűjeleket a táblázat megfelelő részébe! Mindenhol 3 betűjel szerepeljen a már beírt betűkkel együtt!

A),
R),
O),
D),
H),

- A) kása és faház
- B) közös ebéd
- C) mesterek és inasok
- D) újjászületés
- E) sztyeppe
- F) pestis
- G) a lakosság 90 %-a
- H) őstörténet vitás kérdésekkel
- I) Firenze, Róma, Milánó
- J) város védelmének kötelezettsége is
- K) Szent Benedek
- L) első végvárvonal kiépítése



M




N



O



P



R



S

a1
b1
c1
d1
e1
.../5

9. Írj válaszokat a térképről az alábbi kérdésekre!

- a) provincianév, arab hódítás, Alhambra palotaegyüttes is itt található:.....
- b) római városnév, borostyánút, Szent Márton születése:.....
- c) városnév, három vallás szent helye, a kereszties királyság fővárosa:.....

- d) városnév, mely új neveket kapott történelme során, egy fontos tengeri átjárónál:.....
- e) provincianév, melynek területén később a Nyugati Frank Királyság alakult ki:.....

- f) városnév, ahol Saulból Pál lett:.....



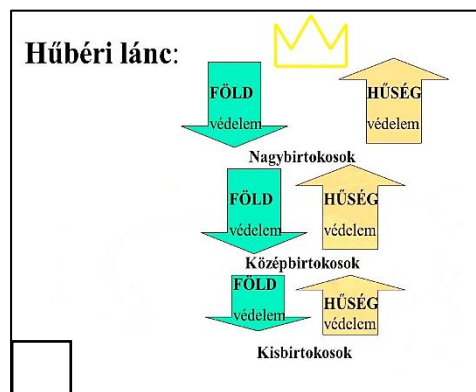


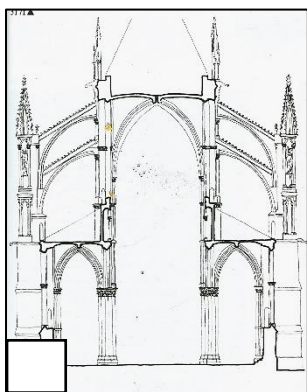
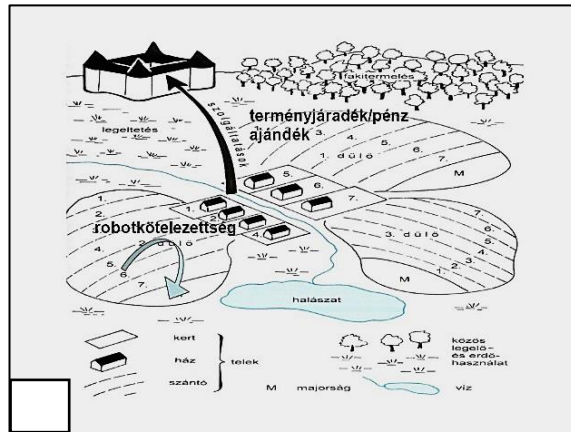
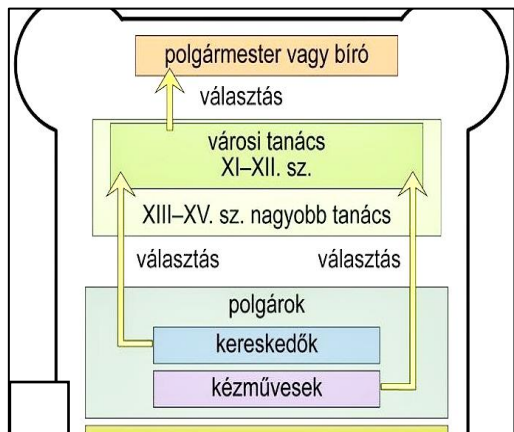
a1
b1
c1
d1
e1
f1
.../6

10/A. Jelöld X-szel azt a 3 szöveg alatti ábrát, melyek közvetlenül kapcsolódnak a szöveghez!

a1
b1
c1
.../3

A középkor első századaiban a vidéki élet lett a meghatározó. A földeket germán és egykori római nagyurak birtokolták, a lakosság jelentős részének nem vagy kevés saját tulajdonú földje volt. Ám abban a korban nem voltak gépek, amelyek a földet művelték, a föld megműveléséhez sok ember sok munkája kellett. Ezért a földbirtokosok igyekeztek minél több embert földjeikre csábítani, földeket adtak nekik, melyekért cserébe ugyan adót fizettek (terményben), de a termés nagyrésze megmaradt. Így alakult ki a középkor két jellemző társadalmi rétege: a földesúri (=nemesi) és a jobbágyi (=paraszti) réteg. A rabszolgaság erősen visszaszorult. A társadalom rétegeit az egyház kötelékében élő papság, majd néhány száz év múlva az újra megjelenő és megerősödő városi lakosság, a polgárság egészítette ki.

A középkori emberek többsége tehát szűk látókörben élte nyomorúságos viskóiban mindennapjait. A család minden dolgozni tudó tagja a földeken dolgozott a napi betevőért. Önellátás folyt, nem voltak boltok, ritkán érkeztek távoli áruk, mint egykor a birodalom idején. Az emberek az élelmüket, a ruházatot, az alapvető eszközeiket is maguk állították elő. A kereskedelem a keresztes háborúk idején lendül újra fel. A földesúrnak adóztak, dolgoztak az ő földjén is (robot), de ha kellett a földesúr közeli várába menekülhettek. A gyerekek nem jártak iskolába, otthon segítettek, még a földesurak, királyok sem tudtak írni, olvasni. Az ókorra jellemző pezsgő kulturális élet megszűnt, csak a keresztény kolostorok műveltebb papjai tudtak írni-olvasni. Ők vitték tovább most már a kereszténység jegyében az ókor kultúráját, hogy 500 év múlva egy megújuló gondolkodásmódnak adjanak biztos alapokat.



10/B. Írj X-et 3 állítás után, melyek igazolhatóak vagy egyértelműen következtethetőek a fenti szöveg alapján!

a1
b1
c1
.../3

- A) A középkorban lassú, de folyamatos fejlődés látható.
- B) A középkori társadalom felépítése más, mint az ókori.
- C) A germán lakosság nyugaton latin nyelvűvé vált.
- D) A földesúri-jobbágyi társadalmi rétegek kölcsönösen függtek egymástól.
- E) A középkori műveltség az egyháznak köszönhetően a társadalom széles rétegében megmaradt.

11/A. Húzd alá a két válaszlehetőség közül a helyeset minden állításnál!

- | | | |
|-------------------------|----------------------------------|---|
| a) Jézus születésekor | <i>Augusztus/ Heródes</i> | volt a római császár. |
| b) Jézus | <i>Betlehemben/ Názáretben</i> | nevelkedett. |
| c) Az első keresztények | <i>rómaiak/zsidók</i> | voltak. |
| d) Jézus tanítványait | <i>apostoloknak/ mártíroknak</i> | hívjuk. |
| e) Jézus halálakor | <i>Heródes/Pilátus</i> | volt a római helytartó. |
| f) A kereszténység a | <i>III. /IV.</i> | században lett a Római Birodalom legfőbb vallása. |
| g) A keresztény vallást | <i>Jézus/ Szent Pál</i> | terjesztette el a Római Birodalomban. |

a1
b1
c1
d1
e1
f1
g1
.../7

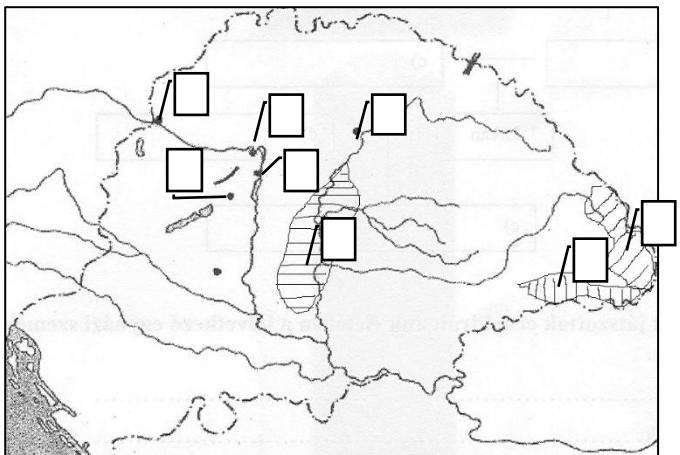
11/B. Írd az „A” feladatból azt a betűjelet válaszként, melyhez leginkább kapcsolódhatnak a felsorolások!

- a) Nagy Konstantin, kötelező vasárnapi munkaszünet:
- b) magára vette az emberiség bűneit, Golgota:
- c) gyermekgyilkosságok, népszámlálás:

a1
b1
c1
.../3

12. Írd a térkép megfelelő négyzeteibe az alábbi meghatározások számjeleit! Egy szám csak egy helyre kerülhet!

1. Csaba királyfi népének területe.
2. Harcoltunk ellenük, majd szövetségként betelepítettük őket.
3. Itt koronázták meg Szent Istvánt. Koronázóhely.
4. Itt építettek maguknak templomot a magyarok a német mellé, melynek Mária Magdolna nevet adtak.
5. Főváros az Anjou királyok idején.
6. Vereség a nagy nomád hódítótól.



a1
b1
c1
d1
e1
f1
.../6

13. Válaszd meg a papírpénzzel kapcsolatos két kérdést!

a) Miért nem a Szent Koronával ábrázolták Szent Istvánt?.....



a1
b1
.../2

b) Miért pont Esztergom látképe került a 10.000 Ft-os bankjegy hátoldalára?

